













In deze opdracht ga je gooien met 2 dobbelstenen. Je telt de ogen van de dobbelstenen bij elkaar op en zet dan een kruisje bij het juiste getal. De kruisjes teken je van onder naar boven. Je gooit net zo lang tot dat 1 paard gewonnen heeft. Dit is wanneer één kolom vol is. Klik eventueel hier voor online dobbelstenen: <https://nl.piliapp.com/random/dice/?num=2>

1	2	3	4	5	6	7	8	9	10	11	12	



1. Welk paard heeft bij jou gewonnen?
2. Kan paard 1 winnen? Leg je antwoord uit.
3. Vul het onderstaand schema in. Tel steeds de ogen van de dobbelstenen bij elkaar op en schrijf het antwoord in het bijbehorende hokje.

+							
							
		4					
							
							
							
							



4. Welk paard had de meeste kans om te winnen? Leg je antwoord uit.